




بسته کمک به تحول آموزش و پرورش



آزمون

هشتم

آزمون نمره منفی دارد.



تاریخ: ۹۶/۱/۲۵ تعداد پرسش: ۸۵ زمان: ۹۵ دقیقه

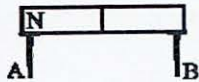


دانش آموز عزیزه

با بررسی کارنامه‌ها، اغلب مشاهده می‌شود که دانش آموزان بدون توجه به نمره منفی، بیش تر پرسش‌های آزمون را پاسخ می‌دهند! عزیزان این کار اصلاً حرفه‌ای و درست نیست. توجه به نمره منفی در هر آزمون از اهمیت ویژه‌ای برخوردار است. مثلاً اگر دانش آموزی از ۲۰ پرسش ریاضی ۹ درست، ۹ نادرست و ۲ نزده دارد (یعنی ۱۸ پرسش را پاسخ داده)، این دانش آموز از دانش آموزی که فقط ۷ پرسش را پاسخ داده و درست هم هست، عقب‌تر است. در نتیجه ملاک، تعداد پرسش‌های پاسخ داده شده نیست، بلکه ملاک، تعداد پاسخ‌های درست است. پس فقط و فقط پرسش‌هایی را پاسخ دهید که کاملاً از درستی آن‌ها مطمئن هستید. «موفق باشید»

علوم (زمان: ۲۰ دقیقه)

۱. مطابق شکل زیر، دو میخ جذب آهن‌ریا شده‌اند. به ترتیب از راست به چپ A و B چه قطب‌هایی از آهن‌ریا هستند؟

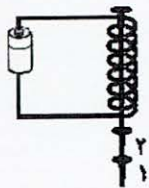


S و S (۲)

N و N (۱)

S و N (۴)

N و S (۳)



۲. با توجه به شکل روبه‌رو، میخ ۱ و ۲ به ترتیب از راست به چپ به کدام روش آهن‌ریا شده‌اند؟

مالش، القا (۲)

مالش، مالش (۱)

الکتریکی، القا (۴)

القا، القا (۳)

۳. چند مورد از مواردی که در جدول زیر نوشته‌ایم جذب آهن‌ریا می‌شوند؟

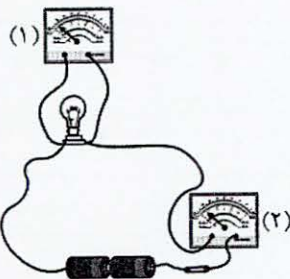
میخ فولادی، پرچ آلومینیومی، پیچ آهنی، میله نیکلی

۴ (۴)

۳ (۳)

۲ (۲)

۱ (۱)



۴. با توجه به شکل روبه‌رو، کدام گزینه درست است؟

(۱) دستگاه آمپرسنج است و در صورت سوختن آن، لامپ روشن می‌ماند.

(۲) دستگاه ولت‌سنج است و در صورت سوختن آن، لامپ خاموش می‌شود.

(۳) دستگاه آمپرسنج است و در صورت سوختن آن، لامپ خاموش می‌شود.

(۴) دستگاه ولت‌سنج است و در صورت سوختن آن، لامپ روشن می‌ماند.

۵. در کدام یک از وسیله‌های زیر، موتورالکتریکی به کار رفته است و در موتور الکتریکی آن وسیله کدام تبدیل انرژی انجام می‌گیرد؟

(۱) یخچال، الکتریکی به حرکتی

(۲) لباس‌شویی، حرکتی به الکتریکی

(۳) ساعت دیواری که با باتری کار می‌کند، شیمیایی به الکتریکی

(۴) ماشین کوکی، الکتریکی به حرکتی





۶. کدام یک از خواص نوری شناسایی کانی‌ها است؟
 (۱) سختی (۲) شکل بلور (۳) واکنش با اسید (۴) مطالعه مقطع نازک
۷. کدام یک کانی است؟
 (۱) نفت (۲) محلول آب و قند (۳) یخ (۴) شیشه
۸. از کدام کانی در تهیه گچ بنایی استفاده می‌شود؟
 (۱) فلوئوریت (۲) مسکوویت (۳) ژیبس (۴) هالیت
۹. کدام کانی سیلیکاتی است؟
 (۱) فیروزه (۲) هالیت (۳) کوارتز (۴) هماتیت
۱۰. کدام کانی در اثر گرما و فشار زیاد تشکیل شده است؟
 (۱) فیروزه (۲) هالیت (۳) گرافیت (۴) گچ
۱۱. استفاده از کدام کانی در برخی کشورها در صنعت ممنوع شده است؟
 (۱) هالیت (۲) ایرانیت (۳) آزبست (۴) تالک
۱۲. کدام یک سنگ آذرین درشت بلور است؟
 (۱) گرانیت (۲) ریولیت (۳) بازالت (۴) ماسه‌سنگ
۱۳. اگر به عمق ۱۰ کیلومتری زمین برویم، دما چند درجه سانتی‌گراد افزایش می‌یابد؟
 (۱) ۱۰۰ (۲) ۳ (۳) ۴۰۰ (۴) ۳۰۰
۱۴. امکان وجود عنصر اورانیوم در کدام یک از سنگ‌های زیر وجود دارد؟
 (۱) مرمر (۲) گرانیت (۳) بازالت (۴) گابرو
۱۵. بلورهای سازنده کدام سنگ با بلورهای سنگ بازالت هم اندازه است؟
 (۱) گابرو (۲) گرانیت (۳) ریولیت (۴) نمک

زبان انگلیسی (زمان: ۷ دقیقه)

16. A: What do you do as a hobby?

B: I work in the

- 1) movies 2) garden 3) river 4) hill

17. A: I read magazines as a hobby. about you?

B: I love walking.

- 1) Why 2) How 3) What 4) Which



18. A: What about the

B: There is a lot of wind in winter.

- 1) plow 2) field 3) weather 4) flower

19. A: What's the people's job?

B: They work on and animals.

- 1) farms/ raise 2) tractors/ plow 3) villages/ plow 4) rivers/ raise

20. Which one is not a hobby?

- 1) shopping 2) fishing 3) skiing 4) plowing

21. He loves horse very much.

- 1) riding 2) ride 3) rides 4) to ride

۲۲. رابطه کلمه raise به cattle مانند رابطه کلمه plow به است.

- 1) flower 2) village 3) farm 4) mountain

مطالعات اجتماعی (زمان: ۱۰ دقیقه)

۲۳. هلاکو پس از نابودی خلافت عباسی، و حکومت با ظهور صفویان در ایران از میان رفت.


- (۱) اسماعیلیان ایران را از بین برد، ایلخانان
(۲) اسماعیلیان ایران را از بین برد، ایلخانان
(۳) حکومت ایلخانان را تأسیس کرد، تیموریان
(۴) حکومت ایلخانان را تأسیس کرد، تیموریان

۲۴. اصلاح امور اداری، مالی و قضایی در دوره غازان خان با راهنمایی‌های چه کسی صورت گرفت و پایتخت ایلخانان در زمان

چه کسی به سلطانه منتقل شد؟

- (۱) خواجه رشیدالدین فضل‌الله همدانی، اولجایتو
(۲) خواجه نصیرالدین توسی، اولجایتو
(۳) خواجه نصیرالدین توسی، غازان‌خان
(۴) خواجه رشیدالدین فضل‌الله همدانی، غازان‌خان

۲۵. تصویر زیر است که توسط ساخته شده است.



- (۱) رصدخانه مراغه، خواجه نصیرالدین توسی
(۲) ارگ علیشاه، خواجه تاج‌الدین علیشاه وزیر الجاتیو
(۳) رصدخانه سمرقند، میرزا الغیغ
(۴) رُبع رشیدی، خواجه رشیدالدین فضل‌الله همدانی

۲۶. خاستگاه اصلی آیین بودا کدام کشور است و بیش‌تر جمعیت آسیا از چه نژادی هستند؟

- (۱) هند، زردپوست
(۲) چین، زردپوست
(۳) چین، دو رگه سفید و سیاه
(۴) هند، سفیدپوست



۲۷. چه تعداد از عبارات‌های زیر درباره ویژگی‌های قاره آسیا درست است؟

- (الف) جلگه پهناور گنگ و سند در شمال هند، بخش وسیعی از کشور پاکستان و بنگلادش را در بر می‌گیرد.
 (ب) بخش‌های داخلی و مرکزی آسیا زمستان‌های بسیار سرد و تابستان‌های بسیار گرم و خشک دارد.
 (ج) سرزمین‌های مغرب و جنوب‌غربی آسیا در معرض بادهای موسمی قرار دارند.
 (د) قاره آسیا از طریق تنگه برینگ از آمریکای شمالی و از طریق کانال سوئز از قاره آفریقا جدا می‌شود.

(۱) ۱ (۲) ۲ (۳) ۳ (۴) ۴

۲۸. پیشرفت صنعت در کدام کشور مربوط به دو دهه اخیر است و کدام کشورهای آسیایی عضو کشورهای گروه هشت هستند؟

- (۱) مالزی، کره جنوبی و ژاپن (۲) سنگاپور، کره جنوبی و ژاپن
 (۳) هنگ‌کنگ، سنگاپور و کره جنوبی (۴) مالزی، روسیه و ژاپن

۲۹. در بخش‌های وسیعی از منطقه جنوب غربی آسیا چه نوع آب و هوایی حکم فرماست و کدام کشور عربی این منطقه

(جنوب غربی آسیا) توانسته از طریق رونق گردشگری و تجارت، اقتصاد خود را متحول کند؟

- (۱) آب و هوای گرم و خشک یا نیمه‌خشک، عربستان
 (۲) آب و هوای گرم و پرباران، کویت
 (۳) آب و هوای گرم و خشک یا نیمه‌خشک، امارات متحده عربی
 (۴) آب و هوای گرم و پرباران، بحرین

۳۰. چه مقدار از منابع گازی جهان در منطقه خاورمیانه قرار دارد و ایران از نظر ذخایر گازی در چه رتبه‌ای قرار گرفته است؟

(۱) $\frac{2}{3}$ ، چهارم (۲) $\frac{1}{2}$ ، اول (۳) $\frac{1}{3}$ ، اول (۴) $\frac{1}{3}$ ، چهارم

۳۱. کدام مورد جزو عوامل استراتژیک بودن منطقه جنوب غرب آسیا نیست؟

(۱) این منطقه انبار مهم منابع انرژی در جهان است.

(۲) این منطقه کانون جهان اسلام است.

(۳) این منطقه کانون اتصال سه قاره آسیا، اروپا و آفریقا است.

(۴) این منطقه دارای سواحل طولانی بوده و جایگاه ممتازی در جهان دارد.

۳۲. پرجمعیت‌ترین کشورهای جهان و در قاره آسیا واقع شده‌اند.

(۱) چین، پاکستان (۲) هند، چین (۳) هند، ژاپن (۴) چین، ژاپن



ریاضی (زمان: ۲۵ دقیقه)

۳۳. مقدار تقریبی $\sqrt{57}$ تا یک رقم اعشار کدام گزینه است؟

- (۱) $7/7$ (۲) $7/6$ (۳) $7/5$ (۴) $7/4$

۳۴. کدام یک از تساوی زیر درست است؟

A: $\sqrt{64} + \sqrt{36} = 10$ B: $\frac{\sqrt{12 \times 49}}{\sqrt{3}} = 14$ C: $\sqrt{\frac{1}{144}} = \frac{1}{12}$

- (۱) هر سه تساوی درست است.
(۲) تساوی‌های A و C درست است.
(۳) هر سه تساوی نادرست است.
(۴) تساوی‌های B و C درست است.

۳۵. مساحت یک قطعه زمین مربع شکل، ۲۰۲ متر مربع است. محیط این زمین تقریباً چند متر است؟

- (۱) $57/2$ (۲) $56/4$ (۳) $56/8$ (۴) $57/8$

۳۶. عدد $5\sqrt{2}$ بین کدام دو عدد صحیح متوالی است؟

- (۱) ۶ و ۷ (۲) ۷ و ۸ (۳) ۸ و ۹ (۴) ۹ و ۱۰

۳۷. حاصل کدام عبارت از همه بزرگ‌تر است؟

(۱) $-\sqrt{5^2}$ (۲) $(\frac{3}{4})^4$ (۳) $(-2^2)^3$ (۴) $\frac{-12^0}{(-\frac{1}{2})^3}$

۳۸. عدد $-2 + \sqrt{37}$ بین کدام دو عدد طبیعی متوالی قرار دارد؟

- (۱) ۴ و ۵ (۲) ۶ و ۷ (۳) ۳ و ۴ (۴) ۲ و ۳

۳۹. مقدار عددی عبارت زیر به‌ازای $a = -2$ و $b = 3$ در کدام گزینه آمده است؟

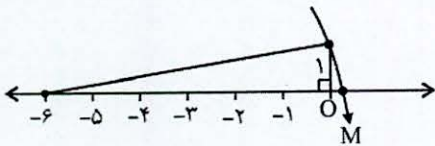
$$\frac{-2(a^2 + b)}{a^0 + (a + b)^{1395}}$$

- (۱) ۱۴ (۲) -۱۴ (۳) -۷ (۴) ۷





۴۰. نقطه M محل نمایش چه عددی است؟



$-6 - \sqrt{37}$ (۴)

$-6 + \sqrt{37}$ (۳)

$6 - \sqrt{37}$ (۲)

$\sqrt{37}$ (۱)

۴۱. حاصل عبارت $(2\sqrt{3} - \sqrt{11})(2\sqrt{3} + \sqrt{11})$ کدام است؟

-23 (۴)

23 (۳)

-1 (۲)

1 (۱)

۴۲. اندازه تقریبی شعاع منظومه شمسی 10^{13} متر است. اندازه شعاع تقریبی جهان قابل مشاهده توسط انسان 10^{13} برابر بیشتر است.

اندازه شعاع تقریبی جهان قابل مشاهده توسط انسان چه قدر است؟

10^{169} (۴)

$10 \cdot 10^{13}$ (۳)

$2 \cdot 10^{13}$ (۲)

2×10^{13} (۱)

۴۳. حاصل $\sqrt{a^{15}} \sqrt{a^{14}}$ کدام است؟ ($a > 0$)

a^{12} (۴)

a^{22} (۳)

a^{11} (۲)

$\sqrt{a^{11}}$ (۱)

۴۴. نصف ربع عدد 16^5 کدام گزینه است؟

2^{14} (۴)

2^{15} (۳)

2^{16} (۲)

2^{17} (۱)

۴۵. جذر تقریبی $\frac{0.000000143}{1321}$ کدام است؟

$\frac{0.00000012}{659}$ (۴)

$\frac{0.00000012}{660}$ (۳)

$\frac{0.00000012}{661}$ (۲)

$\frac{0.00000012}{662}$ (۱)

۴۶. حاصل عبارت $\sqrt{4 + 8\sqrt{1 + 3\sqrt{(7-2)^2}}}$ کدام است؟

$\sqrt{68}$ (۴)

10 (۳)

$\sqrt{34}$ (۲)

6 (۱)



۴۷. حاصل عبارت $\sqrt{x+1} \div \sqrt{-x+1}$ کدام است؟

- \sqrt{x} (۴) $\sqrt{x+2}$ (۳) \sqrt{x} (۲) \sqrt{x} (۱)

۴۸. اگر $5^a \times 2^b = 2000$ ، آنگاه حاصل $\sqrt{a^b \times b^{a+1}}$ کدام است؟

- ۴۸ (۴) ۷۲ (۳) ۹۶ (۲) ۱۴۴ (۱)

۴۹. حاصل عبارت $\sqrt{50} - \sqrt{32} - \sqrt{18} - \sqrt{8}$ کدام گزینه است؟

- صفر (۴) $-2\sqrt{2}$ (۳) $-4\sqrt{2}$ (۲) $\sqrt{2}$ (۱)

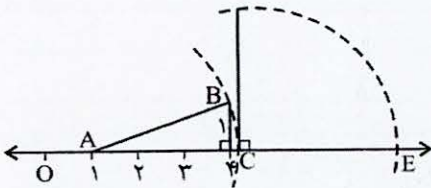
۵۰. کوچک‌ترین عدد طبیعی که اگر عدد ۸۴۰ بر آن تقسیم شود، حاصل یک عدد مجذور کامل می‌شود کدام است؟

- ۲۱۰ (۴) ۷۰ (۳) ۱۰۵ (۲) ۲۱ (۱)

۵۱. اگر $7^m = 11$ و $11^n = 7$ ، حاصل $5^{mn} - mn$ کدام گزینه است؟

- ۵ (۴) ۴ (۳) ۳ (۲) ۲ (۱)

۵۲. در شکل زیر به مرکز A و به شعاع AB کمانی می‌زنیم. اگر به مرکز C و شعاع ۳ واحد کمانی بزنیم، نقطه E نمایش



چه عددی است؟

- $\sqrt{10}$ (۱)
 $1 + \sqrt{10}$ (۲)
 $3 + \sqrt{10}$ (۳)
 $4 + \sqrt{10}$ (۴)



۵۳. کلمه «حَطَب» با کدام یک از کلمه‌های داده شده ارتباط بیش‌تری دارد؟
 (۱) إِضَاعَةٌ (۲) غَابَةٌ (۳) صُدَاعٌ (۴) غِرْزَانٌ
۵۴. در جای خالی کدام کلمه پرسشی مناسب است؟ «..... تَلْعَبَانِ كُرَةَ الْمِنْضَدَةِ؟ نَلْعَبُ بَعْدَ دَقِيقَةٍ.»
 (۱) أَيْنَ (۲) مَاذَا (۳) مَنَ (۴) مَتَى
۵۵. ترجمه عبارت «مَا هُوَ الْحَلُّ؟ عَلَيْكَ بِالتَّفَكُّرِ» کدام است؟
 (۱) راه حل چیست؟ پس فکر کن.
 (۲) راه حل نیست بر تو باد تفکر.
 (۳) راه حل چیست؟ تو باید فکر کنی.
 (۴) راه حل نیست، تو باید فکر کنی.
۵۶. در کدام یک از عبارات‌های زیر، فعل جمله درست به کار رفته است؟
 (۱) نَحْنُ سَوْفَ يَمْلِكُ عَلَى بِلَادٍ كَثِيرَةٍ.
 (۲) أُيْتِنَا الْأَمْهَاتُ، أَنْزَرَعِينَ الرَّزَّ فِي الْمَرْزَعَةِ؟
 (۳) أَيُّهَا الذَّنَابُ هَلْ أَنْتُمْ أَكَلْتُمَا يُوسُفَ؟
 (۴) أَيْنَ تَذْهَبُونَ؟ نَذْهَبُ إِلَى مَنْظَمَةِ الْعَمَلِ.
۵۷. مضارع کدام فعل درست است؟
 (۱) هُمَا نَظَرَا ← يَنْظُرُونَ (۲) هُم لَعِبُوا ← يَلْعَبُونَ (۳) أَنْتَمَا خَرَجْتَمَا ← يَخْرُجَانِ (۴) أَنْتُمْ حَرَسْتُمْ ← تَحْرَسُونَ
۵۸. برای جاهای خالی عبارت روبه‌رو کدام فعل‌ها مناسب است؟ «هَاتَانِ الْبَيْتَانِ ... وَاجِبُهُمَا. أَنْتُمَا ... أَيْضاً.»
 (۱) يَكْتَبَانِ، تَكْتَبَانِ (۲) تَكْتَبَانِ، يَكْتَبَانِ (۳) تَكْتَبَانِ، يَكْتَبَانِ (۴) يَكْتَبَانِ، يَكْتَبَانِ
۵۹. ترجمه درست عبارت «رَأَيْتُهُمْ لِي سَاجِدِينَ» کدام گزینه است؟
 (۱) آن‌ها را در برابر سجده کنان می‌دیدم.
 (۲) آن‌ها را می‌دیدم که سجده می‌کنند.
 (۳) آن‌ها را در برابر سجده کنان دیدم.
 (۴) ایشان را می‌دیدم که برای من سجده می‌کنند.
۶۰. متضاد کلمه «مَجْنُون» در کدام یک از عبارات‌های زیر آمده است؟
 (۱) أَنَا سَأَذْهَبُ إِلَى الْمُسْتَوْصَفِ.
 (۲) صَعِدَ الْجَمْعُ الْجَبَلِ وَوَجَدُوا عَالِماً.
 (۳) شَاهَدْتُ غَابَةً وَاسِعَةً؛ ثُمَّ رَجَعْتُ.
 (۴) قَالَ لِي طَائِرٌ عَاقِلٌ: خَلَفَ الْجِبَالِ عَالَمٌ آخَرٌ.

۶۱. در بین گروه کلمه‌های زیر، چند غلط املایی وجود دارد؟
 «ستم‌ها و گزندها، عزت و اراده، گستاخی دشمن، خیل عظیم، صدی نفوذناپذیر، هجوم وحشیانه حامیان آمریکایی، حماسه‌های شگفت‌انگیز، تخصص و تعهد، مایع افتخار، سیمای وطن، ذیور و شکوه خلاقیت، عرصه‌ها و میدان‌ها»
 (۱) یک (۲) دو (۳) سه (۴) چهار



۶۲. در کدام بیت وابسته های پیشین بیش تری وجود دارد؟

- | | |
|---------------------------------------|---------------------------------|
| ۱) گشت حیران آن مبارز زین عمل | وز نمودن عفو و رحم بی محل |
| ۲) از قضا انداخت شمشیر آن علی | کرد او اندر غزایش کاهلی |
| ۳) آه و افسوس از آن روز که در دشت بلا | بود آن خسرو بی لشکر و یاور تشنه |
| ۴) شد نفس آن دو سه هم سال او | تنگ تر از حادثه حال او |

۶۳. نوع جمله های عبارت زیر از نظر محتوا، به ترتیب در کدام گزینه آمده است؟

«سردار گفت: آفرین بر قلم سحرآمیزت! من درد را فراموش کردم. نقاشی تو طبیب زخم های ماست.»

- | | |
|----------------------------|-----------------------------|
| ۱) خبری، عاطفی، خبری، خبری | ۲) خبری، پرسشی، خبری، خبری |
| ۳) خبری، عاطفی، امری، خبری | ۴) خبری، پرسشی، خبری، پرسشی |

۶۴. در عبارت زیر، به ترتیب چند صفت پیشین و چند صفت پسین (صفت بیانی) وجود دارد؟

«این روحانی پرشور به انگلیس که رسید، زبان انگلیسی را در مدتی کوتاه آموخت تا به این زبان سخنرانی کند و با اندیشمندان آن ها به گفت و گو بنشیند.»

- | | | | |
|-----------|-----------|-----------|-----------|
| ۱) سه، دو | ۲) دو، دو | ۳) دو، سه | ۴) یک، یک |
|-----------|-----------|-----------|-----------|

۶۵. در عبارت زیر، کدام واژه، هسته گروه اسمی نیست؟

«ای دوست! نام من خوش بو کردی و مرا بزرگ داشتی و حرمت نهادی، ما نیز نام تو معطر گردانیم.»

- | | | | |
|---------|--------|---------|-------|
| ۱) دوست | ۲) نام | ۳) بزرگ | ۴) ما |
|---------|--------|---------|-------|

۶۶. با توجه به بیت های زیر معنی مشخص شده کدام کلمه نادرست است؟

- | | |
|-------------------------------|--|
| ۱) ای وطن، ای دل مرا مأوا | ای وطن، ای تن مرا مسکن (مأوا: پناهگاه) |
| ۲) آدمی را چو هفت مهر به دل | نبود کم شمار از اهریمن (اهریمن: دشمن) |
| ۳) مهر ناموس و زندگانی و دین | عزت و خاندان و مال و وطن (ناموس: آبرو) |
| ۴) و آن که حب وطن نداشت به دل | مُرده زان خوب تر به باور من (حب وطن: میهن دوستی) |

۶۷. کدام بیت با دیگر ابیات قرابت معنایی ندارد؟

- | | |
|---------------------------------------|---------------------------------|
| ۱) چونکه حب وطن ز ایمان است | ما یقیناً ز اهل ایمانیم |
| ۲) ز مهر روی تو بیریده ام ز حب وطن | اگر چه دانی حب الوطن من الایمان |
| ۳) و آن که حب وطن نداشت به دل | مُرده ز آن خوب تر به باور من |
| ۴) صائب کجا رویم که هر کجا که می رویم | از سر هوای حب وطن و نمی شود |



۶۸. کدام بیت با دیگر ابیات قرابت معنایی ندارد؟

- (۱) کشتی عمرت از این غرقاب کی یابد نجات
 - (۲) باد خشم و باد شهوت باد آز
 - (۳) هر کجا غوغای شهوت کرد زور
 - (۴) خشم و شهوت، خصال حیوان است
- تا هوای نفس تو باد است و شهوت بادبان
برد او را که نبود اهل نماز
می‌برد از دل، خرد از دیده نور
علم و حکمت، کمال انسان است (خصال: ویژگی)

۶۹. عبارت زیر به چه چیزی اشاره (تلمیح) دارد؟

«خدا چقدر مهربانی‌اش را وسعت داد / در دورهای کویر طبس / آن اتفاق / یادت هست؟ / نه من بودم و نه هیچ کس / خدا بود و گردباد ...»

- (۱) جنگ تحمیلی که در نهایت، ایران به پیروزی رسید.
- (۲) حمله آمریکایی‌ها به ایران و ناکام ماندن آنها
- (۳) نجات یافتن مردم در زمین لرزه ترسناک
- (۴) لطف و محبت خداوند به مردمانی که در کویر خشک به سر می‌بردند.

۷۰. با توجه به دو بیت زیر، کدام گزینه نادرست است؟

- «نکته‌ای گویمت که گر شنوی
شاد، مانی به جان و زنده به تن
- و آن که حبّ وطن نداشت به دل
مُرده زان خوب‌تر به باور من»

- (۱) دو بیت از شش جمله، تشکیل شده است.
- (۲) حُبّ وطن، نقش مفعولی دارد.
- (۳) خوب‌تر، متمم است.
- (۴) «ت» در گویمت، نقش متممی دارد.

۷۱. در کدام گزینه، جناس وجود ندارد؟

- (۱) چون تو حاضری، چه جویم و چون تو ناظری چه گویم؟
- (۲) سرو چمان من چرا میل چمن نمی‌کند.
- (۳) همدم گل نمی‌شود، یاد سمن نمی‌کند.
- (۴) نه هر چه به قامت مهتر، به قیمت بهتر



۷۲. با توجه به عبارت زیر، کدام مفهوم به میهن نسبت داده نمی‌شود؟

«میهنی که در دوران دفاع مقدس، لحظه‌های تلخ و شیرین بسیاری را به چشم دیده و گرمی خون دلاوران را بر پیکر خود احساس کرده است و شهدای بسیاری را در دل خود جای داده و از گستاخی‌ها و بی‌رحمی‌های دشمن، خون دل‌ها خورده است.»

- (۱) شهادت مردان دلاور
(۲) گذراندن دشواری‌ها و خوشی‌ها
(۳) گرفتار عجز و ناتوانی شدن
(۴) تحمل رنج و غصه بسیار

۷۳. عبارت زیر چه کسی را معرفی می‌کند؟

«نقاش و مینیاتورساز مشهور اواخر عهد تیموری و اوایل دوره صفوی. وی از مردم هرات و شاگرد سید احمد تبریزی بود. شاه طهماسب اول نزد او نقاشی می‌آموخته است.»

- (۱) کمال‌الملک
(۲) کمال‌الدین بهزاد
(۳) علیرضا عباسی
(۴) میرعماد

۷۴. با توجه به سطرهای زیر کدام گزینه نادرست است؟

«و تو آن درخت گردوی کهنسالی و بیش از آن که من خوف تبر را نگرانم/ تو ایستاده‌ای/ و پسران تو/ مردان نیایش و شمشیرند»

- (۱) در متن تشبیه و تشخیص به کار رفته است.
(۲) کل متن از چهار جمله تشکیل شده است.
(۳) «مردان نیایش و شمشیر» نقش نهادی دارد.
(۴) «مردان شمشیر» کنایه از مبارز بودن است.

۷۵. مفهوم بیت زیر، با کدام گزینه، ارتباط معنایی مناسب‌تری دارد؟

«حیف است طایری چو تو در خاکدانِ غم زین جا به آشیان وفا می‌فرستمت»

- (۱) ساقی بیا که هاتفِ غییم به مژده گفت
با درد، صبر کن که دوا می‌فرستمت
(۲) جان، یک نفس درنگ ندارد، گذشتنی است
ورنه بدین شتاب چرا می‌فرستمت
(۳) تو پرتو صفایی، از آن بارگاهِ آنس
هم سوی بارگاهِ صفا می‌فرستمت
(۴) تا لشکرِ غمت نکند ملکِ دل، خراب
جان عزیز خود، به نوا می‌فرستمت



قرآن و پیام‌های آسمان (زمان: ۱۰ دقیقه)

۷۶. در این آیات ابتدا پروردگار بزرگ را از هر گونه نقص یا تصور نادرستی پاک و منزّه می‌دانیم، آن‌گاه بر پیامبران او درود

می‌فرستیم و در آخر بیان می‌کنیم که هرگونه حمد و سپاس مخصوص پروردگار جهانیان است.

- (۱) سه آیه اول سوره یس
(۲) سه آیه آخر سوره یس
(۳) سه آیه اول سوره صافات
(۴) سه آیه آخر سوره صافات

۷۷. کدام ترجمه برای عبارت «وَمَا لِي لَا أَعْبُدُ الَّذِي فَطَرَنِي» مناسب‌تر است؟

- (۱) و چرا من کسی را که مرا آفرید نمی‌پرستم؟!
(۲) و چرا من عبادت نکنم کسی را که مرا پدید آورد؟!
(۳) و آنچه بر من است که نپرستم کسی را که مرا پدید آورد.
(۴) و نیست برای من که عبادت نکنم کسی را که مرا پدید می‌آورد.

۷۸. «مِنْ» در جمله‌های سؤالی و منفی، معمولاً به صورت معنا می‌شود.

- (۱) هرگز (۲) از (۳) هیچ (۴) همه

۷۹. عبارت «می‌داند آنچه را در زمین فرو می‌رود» ترجمه کدام است؟

- (۱) يَغْلَمُ مَا يُولِجُ فِي الْأَرْضِ
(۲) يَغْلَمُ مَا يَلِجُ فِي الْأَرْضِ
(۳) يَعْزِمُ مَا يَعْرِجُ فِي الْأَرْضِ
(۴) يَغْلَمُ مَا يَنْزِلُ فِي الْأَرْضِ

۸۰. کدام عامل باعث می‌شود کارهای مهم از قلم بیفتند و انسان در کارهایش عجله داشته باشد؟

- (۱) معاشرت با افراد بی‌نظم
(۲) همواره به امید فردا بودن
(۳) بی‌حالی و تنبلی
(۴) بی‌توجهی به اولویت‌ها

۸۱. بر اساس حدیث پیامبر صلوات الله علیه، کدام عمل از ساعت‌های طولانی عبادت کردن برتر است؟

- (۱) برنامه‌ریزی دقیق (۲) نظم در کارها (۳) ساعتی تفکر (۴) اولویت‌بندی کارها

۸۲. بر اساس سخن رسول خدا (ص)، عبادت جزء دارد که نه جزء آن است.

- (۱) یازده، توبه از گناهان
(۲) ده، نیکی به دیگران
(۳) یازده، عبادت خداوند
(۴) ده، کار و کسب جلال



۸۳. کدام عبارت دربارهٔ گناه غیبت نادرست است؟

- (۱) نوعی تبلیغ و اشاعه کارهای ناپسند است.
 - (۲) کارهای نیک غیب‌کننده به حساب کسی که از او غیبت شده نوشته می‌شود.
 - (۳) توفیق انجام کارهای نیک از غیبت‌کننده گرفته می‌شود.
 - (۴) عادت به غیبت موجب فقر و تنگدستی انسان می‌شود.
۸۴. معمولاً افراد وقتی عصبانی می‌شوند و نمی‌توانند خشم خود را مهار کنند؛ به این گناه آلوده می‌شوند:

- (۱) تهمت
- (۲) دروغ
- (۳) ناسزاگویی
- (۴) غیبت

۸۵. کدام گزینه، معادل عبارت قرآنی «وای بر کم‌فروشان»، است؟

- (۱) وَیْلٌ لِّكُلِّ هُمَزَةٍ لُّمَزَةٍ
- (۲) وَیْلٌ لِّلْمُطَفِّفِیْنَ
- (۳) وَیْلٌ لِّكُلِّ أَفَّاكٍ أَثِیْمٍ
- (۴) وَیْلٌ لِّلْمُصَلِّیْنَ

داوطلب گرامس

لطفاً شمارهٔ داوطلبی خود را به خاطر بسپارید. ساعتی پس از برگزاری آزمون می‌توانید با وارد کردن شمارهٔ داوطلبی در سایت www.mobtakeran.com کارنامهٔ خود را مشاهده کنید.